

# ŠKOLSKO/GRADSKO NATJECANJE IZ MATEMATIKE

1. razred – srednja škola – B varijanta

14. veljače 2012.

UKOLIKO UČENIK IMA DRUGAČIJI POSTUPAK RJEŠAVANJA ZADATKA, POVJERENSTVO JE DUŽNO I TAJ POSTUPAK BODOVATI I OCIJENITI NA ODGOVARAJUĆI NAČIN.

**Zadatak B-1.1.** Izračunajte  $\frac{1234321234321 \cdot 2468642468641 - 1234321234320}{1234321234320 \cdot 2468642468641 + 1234321234321}$ .

*Rješenje.* Neka je  $n = 1234321234321$ . (1 bod)

Tada je dani izraz ekvivalentan izrazu

$$\frac{n \cdot (2n - 1) - (n - 1)}{(n - 1) \cdot (2n - 1) + n} = \quad (1 \text{ bod})$$

$$\frac{2n^2 - n - n + 1}{2n^2 - 2n - n + 1 + n} = \quad (1 \text{ bod})$$

$$\frac{2n^2 - 2n + 1}{2n^2 - 2n + 1} = 1. \quad (1 \text{ bod})$$

**Zadatak B-1.2.** Napišite kao potenciju s bazom 5:

$$3(5^n - 5)(5^n + 5) + 2(25 + 5^{2n}) + 25^{n+1} : 5^{2n}.$$

*Rješenje.*

$$3(5^n - 5)(5^n + 5) + 2(25 + 5^{2n}) + 25^{n+1} : 5^{2n} =$$
$$3 \cdot (5^{2n} - 25) + 2 \cdot 25 + 2 \cdot 5^{2n} + 5^{2n+2} : 5^{2n} = \quad (1 \text{ bod})$$

$$3 \cdot 5^{2n} - 75 + 50 + 2 \cdot 5^{2n} + 5^2 = \quad (2 \text{ boda})$$

$$5 \cdot 5^{2n} = 5^{2n+1}. \quad (1 \text{ bod})$$

**Zadatak B-1.3.** Škola je raspisala natječaj za najbolje uređenu učionicu. Iznos novčane nagrade će raspodijeliti na četiri prvoplasirana odjeljenja tako da prvoplasirani dobije 40% ukupnog iznosa, drugoplasirani  $\frac{1}{3}$  ukupnog iznosa, trećeplasirani  $\frac{5}{8}$  od preostalog iznosa nagrade, a četvrti 1500 kn. Odredite ukupni novčani iznos nagrade te iznos nagrade za svako od prva tri mjesta.

*Rješenje.* Neka je  $x$  ukupan iznos novčane nagrade. Tada je

$$0.4x + \frac{1}{3}x + \frac{5}{8} \left( x - 0.4x - \frac{1}{3}x \right) + 1500 = x$$
$$\frac{2}{5}x + \frac{1}{3}x + \frac{1}{6}x + 1500 = x \quad (2 \text{ boda})$$

$$12x + 10x + 5x + 45000 = 30x$$

$$3x = 45000$$

$$x = 15000. \quad (1 \text{ bod})$$

Prva nagrada je 6000 kn, druga 5000 kn, a treća 2500 kn. (1 bod)

**Zadatak B-1.4.** Zadan je broj 123456789. Koliko najmanje znamenaka treba izbrisati da novi broj bude djeljiv s 36? Koje su to znamenke?

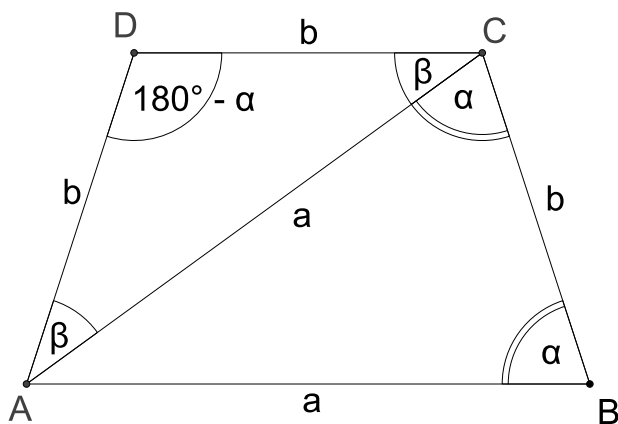
**Rješenje.** Da bi dani broj bio djeljiv sa 4, mora biti paran i njegov dvoznamenkasti završetak mora biti djeljiv sa četiri. Stoga moramo izbrisati zadnju znamenku 9 i znamenku 7. Tada broj završava sa 68, što je djeljivo sa 4. (2 boda)

Traženi broj mora biti djeljiv i s 9, što znači da njegov zbroj znamenaka mora biti djeljiv s 9. Kako je sada zbroj znamenaka 29, preostalo je još samo izbrisati znamenku 2 da bi dobili 27, što je djeljivo s 9.

I to je jedina takva mogućnost jer sljedeći broj djeljiv s 9 je 18, a njega je nemoguće dobiti brisanjem samo jedne znamenke. (2 boda)

**Zadatak B-1.5.** Jednakokračni trapez, koji nema pravih kutova, podijeljen je dijagonalom na dva jednakokračna trokuta. Odredite kutove trapeza.

**Rješenje.** Skica (1 bod)



Vrijedi  $\beta + \alpha = 180^\circ - \alpha$ , odnosno  $2\alpha + \beta = 180^\circ$ . (1 bod)

S druge strane je

$$\begin{aligned} 180^\circ - \alpha + \beta + \beta &= 180^\circ \\ 2\beta &= \alpha \end{aligned} \quad (1 \text{ bod})$$

Tada je  $2 \cdot 2\beta + \beta = 180^\circ$ , odnosno  $5\beta = 180^\circ$  ili  $\beta = 36^\circ$ ,  $\alpha = 72^\circ$ . (1 bod)

Kutovi trapeza su  $\alpha = 72^\circ$  i  $\alpha + \beta = 108^\circ$ .

**Zadatak B-1.6.** U ovisnosti o realnom parametru  $m$ , odredite rješenje  $x$  jednadžbe

$$(m+x)^2 - (x-3)^2 = x(3+m^2).$$

**Rješenje.**

$$\begin{aligned} (m+x)^2 - (x-3)^2 &= x(3+m^2) \\ m^2 + 2mx + x^2 - x^2 + 6x - 9 &= 3x + m^2x \end{aligned} \quad (1 \text{ bod})$$

$$\begin{aligned} 2mx - m^2x + 3x &= 9 - m^2 \\ x(3 + 2m - m^2) &= 9 - m^2 \end{aligned} \quad (1 \text{ bod})$$

$$\begin{aligned} x(3 + 3m - m - m^2) &= (3-m)(3+m) \\ x(3(1+m) - m(1+m)) &= (3-m)(3+m) \\ x(1+m)(3-m) &= (3-m)(3+m) \end{aligned} \quad (*)$$

(2 boda)

Za  $m \neq -1$ ,  $m \neq 3$  dana jednadžba ima jedinstveno rješenje (1 bod)

$$x = \frac{(3-m)(3+m)}{(1+m)(3-m)} = \frac{3+m}{1+m}. \quad (1 \text{ bod})$$

Za  $m = -1$ , iz (\*) slijedi  $0 = 8$  pa dana jednadžba nema rješenja. (2 boda)

Za  $m = 3$ , iz (\*) slijedi  $0 = 0$  pa je dana jednadžba neodređena i svaki realni broj  $x$  je njezino rješenje. (2 boda)

**Zadatak B-1.7.** Odredite sve prirodne brojeve  $n$  za koje je razlomak  $\frac{6n^2 - 10n - 12}{3n - 5}$  prirodan broj.

**Rješenje.** Zapišimo dani razlomak u pogodnijem obliku:

$$\begin{aligned} \frac{6n^2 - 10n - 12}{3n - 5} &= \frac{2n(3n - 5) - 12}{3n - 5} \\ &= 2n - \frac{12}{3n - 5}. \end{aligned} \quad (4 \text{ boda})$$

Da bi dobiveni izraz bio prirodan broj mora vrijediti

$$\begin{aligned} (3n - 5) &\in \{1, -1, 2, -2, 3, -3, 4, -4, 6, -6, 12, -12\} \\ 3n &\in \{6, 4, 7, 3, 8, 2, 9, 1, 11, -1, 17, -7\} \\ n &\in \{1, 2, 3\}. \end{aligned} \quad \begin{array}{l} (2 \text{ boda}) \\ (1 \text{ bod}) \end{array}$$

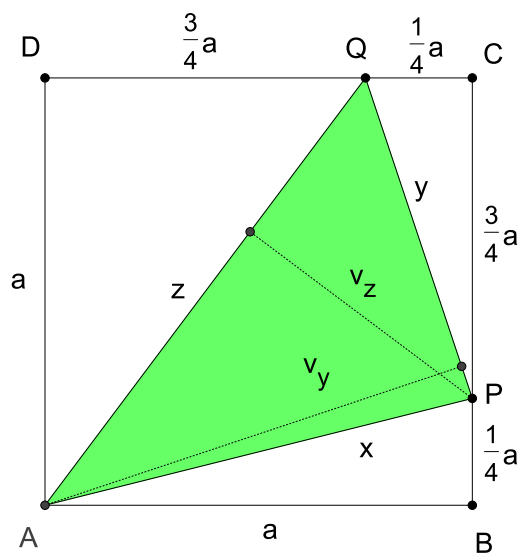
S obzirom da je  $\frac{6n^2 - 10n - 12}{3n - 5} \in \mathbb{N}$ , to mora biti  $2n > \frac{12}{3n - 5}$  (2 boda)

pa su rješenja  $n = 1$  ili  $n = 3$ . (1 bod)

**Zadatak B-1.8.** Na stranicama  $\overline{BC}$  i  $\overline{CD}$  kvadrata  $ABCD$  dane su točke  $P$  i  $Q$  takve da je  $\overline{BP} : \overline{PC} = \overline{CQ} : \overline{QD} = 1 : 3$ . Ako je duljina stranice kvadrata  $a$ , odredite duljinu najveće i najmanje visine trokuta  $APQ$ .

**Rješenje.** Skica

(1 bod)



Stranice trokuta  $APQ$  označimo sa  $x$ ,  $y$ ,  $z$ . Njihove duljine računamo koristeći Pitagorin poučak.

$$\begin{aligned} x^2 &= a^2 + \frac{1}{16}a^2, & x &= \frac{\sqrt{17}}{4}a \\ y^2 &= \frac{9}{16}a^2 + \frac{1}{16}a^2 = \frac{10}{16}a^2, & y &= \frac{\sqrt{10}}{4}a \\ z^2 &= a^2 + \frac{9}{16}a^2 = \frac{25}{16}a^2, & z &= \frac{5}{4}a \end{aligned} \quad (2 \text{ boda})$$

(Napomena: dovoljno je izračunati dvije stranice  $y$  i  $z$ )

Najdulja visina je na najkraću stranicu, a najkraća visina je na najdulju stranicu. (1 bod)

Računat ćemo ih koristeći površinu trokuta  $APQ$ .

$$P = a^2 - \frac{1}{2} \cdot \frac{1}{4}a \cdot a - \frac{1}{2} \cdot \frac{3}{4}a \cdot \frac{1}{4}a - \frac{1}{2} \cdot \frac{3}{4}a \cdot a = \frac{13}{32}a^2. \quad (2 \text{ boda})$$

Tada je najkraća visina

$$v_z = \frac{2P}{z} = \frac{2 \cdot \frac{13}{32}a^2}{\frac{5}{4}a} = \frac{13}{20}a. \quad (2 \text{ boda})$$

Najdulja visina je

$$v_y = \frac{2P}{y} = \frac{2 \cdot \frac{13}{32}a^2}{\frac{\sqrt{10}}{4}a} = \frac{13}{4\sqrt{10}}a = \frac{13\sqrt{10}}{40}a.$$

(2 boda)

# ŠKOLSKO/GRADSKO NATJECANJE IZ MATEMATIKE

2. razred – srednja škola – B varijanta

14. veljače 2012.

UKOLIKO UČENIK IMA DRUGAČIJI POSTUPAK RJEŠAVANJA ZADATKA, POVJERENSTVO JE DUŽNO I TAJ POSTUPAK BODOVATI I OCIJENITI NA ODGOVARAJUĆI NAČIN.

**Zadatak B-2.1.** Izračunajte:

$$\left[ \frac{(1 + \sqrt{3}) + (1 - \sqrt{3})i}{\sqrt{6} + \sqrt{2}i} \right]^{2012}$$

*Rješenje.*

$$\left[ \frac{(1 + \sqrt{3}) + (1 - \sqrt{3})i}{\sqrt{6} + \sqrt{2}i} \right]^{2012} = \left[ \frac{(1 + \sqrt{3}) + (1 - \sqrt{3})i}{\sqrt{6} + \sqrt{2}i} \cdot \frac{\sqrt{6} - \sqrt{2}i}{\sqrt{6} - \sqrt{2}i} \right]^{2012} \quad (1 \text{ bod})$$

$$= \left[ \frac{4\sqrt{2} - 4\sqrt{2}i}{6 + 2} \right]^{2012} \quad (1 \text{ bod})$$

$$= \left[ \frac{(1 - i)^2}{2} \right]^{1006} = \left( \frac{-2i}{2} \right)^{1006} = (-i)^{1006} \quad (1 \text{ bod})$$

$$= -1 \quad (1 \text{ bod})$$

**Zadatak B-2.2.** U kružnici polumjera  $r = 10$  cm povučene su dvije paralelne tetive duljina 16 cm i 12 cm. Ako se središte kružnice nalazi unutar trapeza kojemu su te tetive osnovice, izračunajte opseg trapeza.

*Rješenje.* Skica (1 bod)

Promotrimo jednakokrčan trokut  $ABS$ . Visina na osnovicu jednaka je

$$v_1 = \sqrt{10^2 - 8^2} = 6 \text{ cm.}$$

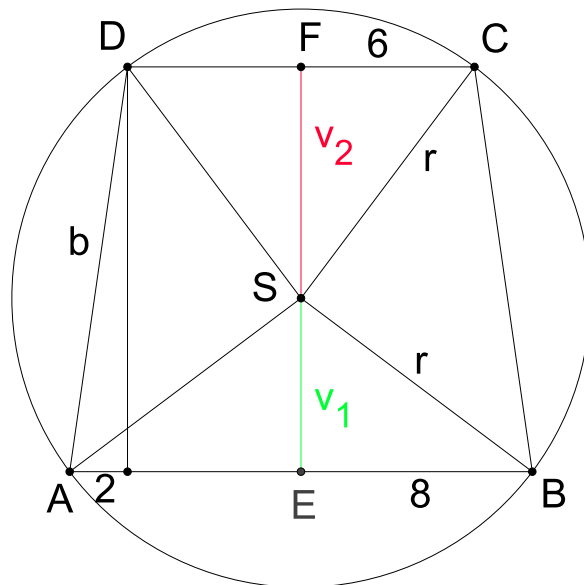
Iz trokuta  $SCD$  dobijemo

$$v_2 = \sqrt{10^2 - 6^2} = 8 \text{ cm.} \quad (1 \text{ bod})$$

Duljina kraka trapeza je tada

$$b = \sqrt{(v_1 + v_2)^2 + \left( \frac{a - c}{2} \right)^2} = \sqrt{14^2 + 2^2} = \sqrt{200} = 10\sqrt{2}. \quad (1 \text{ bod})$$

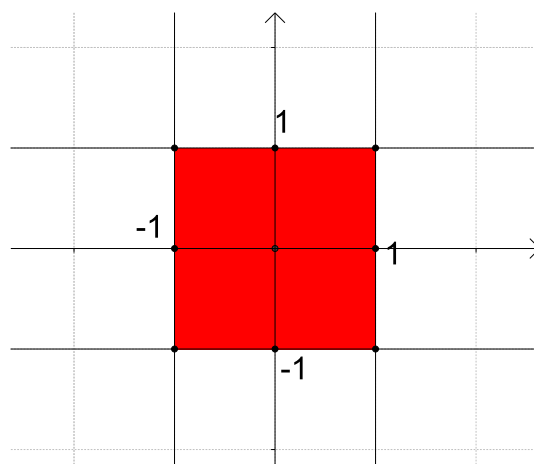
Opseg trapeza je  $o = a + 2b + c = 4(7 + 5\sqrt{2})$ . (1 bod)



**Zadatak B-2.3.** Izračunajte površinu lika kojeg u kompleksnoj ravnini određuje skup svih kompleksnih brojeva  $z$  za koje vrijedi  $|\operatorname{Re} z| \leq 1$ ,  $|\operatorname{Im} z| \leq 1$ .

*Rješenje.* Označimo  $z = x + yi$ . Tada je, prema uvjetima zadatka,  $|x| \leq 1$  i  $|y| \leq 1$ .

(1 bod)



Skica

(2 boda)

Stranica kvadrata je 2 pa je njegova površina 4 kvadratne jedinice.

(1 bod)

**Zadatak B-2.4.** Neka je  $f(x) = x^2 + bx + c$ ,  $b, c \in \mathbb{R}$ . Ako je  $f(0) + f(1) = \frac{1}{2}$ , izračunajte  $f\left(\frac{1}{2}\right)$ .

**Rješenje.**

$$f(0) = c, \quad f(1) = 1 + b + c \quad (1 \text{ bod})$$

$$\text{Iz } f(0) + f(1) = c + 1 + b + c = 2c + b + 1 = \frac{1}{2} \quad (1 \text{ bod})$$

$$\text{slijedi } 2c + b = -\frac{1}{2}, \quad (1 \text{ bod})$$

odnosno  $c + \frac{1}{2}b = -\frac{1}{4}$ . Tada je

$$f\left(\frac{1}{2}\right) = \frac{1}{4} + \frac{1}{2}b + c = \frac{1}{4} - \frac{1}{4} = 0. \quad (1 \text{ bod})$$

**Zadatak B-2.5.** Odredite sve prirodne brojeve  $m$  tako da jednačba  $|x^2 - 5x + 4| = m$  ima tačno četiri različita realna rješenja.

**Prvo rješenje.** Kako je  $m$  prirodan broj, vrijedi  $x^2 - 5x + 4 = m$  ili  $x^2 - 5x + 4 = -m$ , tj.

$$x^2 - 5x + 4 - m = 0 \quad \text{ili} \quad x^2 - 5x + 4 + m = 0. \quad (1 \text{ bod})$$

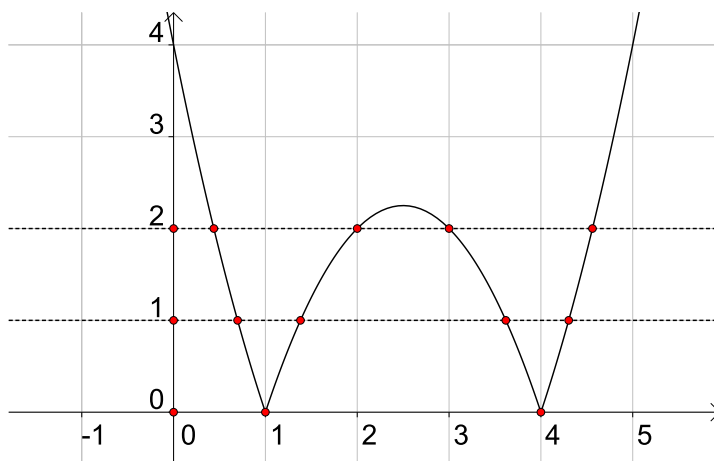
Svaka od ovih jednačbi će imati dva različita realna rješenja ako je njezina diskriminanta veća od 0. Dakle, mora vrijediti

$$25 - 4 \cdot (4 - m) > 0 \quad \text{i} \quad 25 - 4 \cdot (4 + m) > 0. \quad (1 \text{ bod})$$

$$\text{Odatle slijedi } m > -\frac{9}{4} \quad \text{i} \quad m < \frac{9}{4}. \quad (1 \text{ bod})$$

$$\text{Kako je } m \in \mathbb{N}, \text{ slijedi } m = 1 \text{ ili } m = 2. \quad (1 \text{ bod})$$

**Drugo rješenje.** Nacrtamo graf funkcije  $f(x) = |x^2 - 5x + 4|$ .



(2 boda)

Pravac  $y = m$  siječe graf funkcije  $f$  u 4 različite točke ako je  $m = 1$  ili  $m = 2$ . (2 boda)



**Zadatak B-2.6.** Odredite sve kvadratne jednadžbe oblika  $x^2 + px + q = 0$  ako za koeficijente  $p, q \in \mathbb{R}$  vrijedi  $|p - q| = 2012$ , a zbroj kvadrata njezinih rješenja iznosi  $2012^2$ .

*Prvo rješenje.* Iz  $x_1^2 + x_2^2 = 2012^2$  i Vieteovih formula slijedi

$$\begin{aligned} (x_1 + x_2)^2 - 2x_1x_2 &= 2012^2 \\ p^2 - 2q &= 2012^2 \end{aligned} \quad (*)$$

(2 boda)

Kako je  $|p - q| = 2012$ , imamo dva slučaja

$$p - q = 2012 \quad \text{ili} \quad p - q = -2012,$$

odnosno dva sustava jednadžbi

$$\begin{cases} p - q = 2012 \\ p^2 - 2q = 2012^2 \end{cases} \quad \text{i} \quad \begin{cases} p - q = -2012 \\ p^2 - 2q = 2012^2 \end{cases} . \quad (2 \text{ boda})$$

U prvom slučaju  $q = p - 2012$ , što s (\*) daje

$$p^2 - 2p - 2010 \cdot 2012 = 0$$

odnosno

$$(p - 2012)(p + 2010) = 0.$$

Tada su rješenja prvog sustava

$$p_1 = 2012, q_1 = 0 \quad \text{i} \quad p_2 = -2010, q_2 = -4022. \quad (2 \text{ boda})$$

U drugom slučaju  $q = p + 2012$ , što s (\*) daje

$$p^2 - 2p - 2014 \cdot 2012 = 0$$

odnosno

$$(p - 2014)(p + 2012) = 0.$$

Tada su rješenja drugog sustava

$$p_3 = 2014, q_3 = 4026 \quad \text{i} \quad p_4 = -2012, q_4 = 0. \quad (2 \text{ boda})$$

Kvadratne jednadžbe su

$$\begin{aligned} x^2 + 2012x &= 0 \\ x^2 - 2012x &= 0 \\ x^2 + 2014x + 4026 &= 0 \\ x^2 - 2010x - 4022 &= 0 \end{aligned} \quad (2 \text{ boda})$$

*Drugo rješenje.* Iz  $x_1^2 + x_2^2 = 2012^2$  i Vieteovih formula slijedi

$$\begin{aligned} (x_1 + x_2)^2 - 2x_1x_2 &= 2012^2 \\ p^2 - 2q &= 2012^2 \end{aligned} \quad (*)$$

(2 boda)

Kvadriranjem jednakosti  $|p - q| = 2012$  imamo

$$p^2 - 2pq + q^2 = 2012^2 \quad (1 \text{ bod})$$

Oduzimanjem jednakosti  $p^2 - 2q = 2012^2$  i  $p^2 - 2pq + q^2 = 2012^2$  dobivamo  $q^2 - 2pq + 2q = 0$ , odnosno

$$q(q - 2p + 2) = 0. \quad (1 \text{ bod})$$

Odatle je  $q = 0$  ili  $q - 2p + 2 = 0$ .

U slučaju  $q = 0$ , iz (\*) dobivamo  $p = \pm 2012$ . (2 boda)

U drugom slučaju  $q = 2p - 2$ , iz (\*) dobivamo

$$p^2 - 4p + 4 = 2012^2, \quad (p - 2)^2 = 2012^2.$$

Rješenja su  $p_1 = 2014$ ,  $q_1 = 4026$  i  $p_2 = -2010$ ,  $q_2 = -4022$ . (2 boda)

Kvadratne jednadžbe su

$$\begin{aligned} x^2 + 2012x &= 0 \\ x^2 - 2012x &= 0 \\ x^2 + 2014x + 4026 &= 0 \\ x^2 - 2010x - 4022 &= 0 \end{aligned} \quad (2 \text{ boda})$$

**Zadatak B-2.7.** Danas je Valentinovo i Valentino želi izaći sa svojom djevojkom Lornom. Za svoj džeparac od 120 kuna može kupiti nekoliko ruža i dvije limunade. Cijena jedne ruže jednaka je cijeni jedne limunade. Kako sutra pišu test iz matematike, izlazak će ipak odgoditi do subote. U subotu će se cijena jedne ruže smanjiti za 7 kuna. Valentino želi kupiti isti broj ruža, a umjesto limunade želi kupiti jumbo pizzu i coca colu, kojima je ukupna cijena 78 kn. No tada bi mu nedostajalo 6 kuna. Koliko će ruža Valentino kupiti Lorni? Po kojoj će cijeni kupovati ruže u subotu?

**Rješenje.** Označimo sa  $x$  broj ruža, a sa  $y$  cijenu jedne ruže na Valentinovo. Iz uvjeta zadatka imamo

$$\begin{aligned} xy + 2y &= 120 \\ x(y - 7) + 78 &= 126 \end{aligned} \quad (2 \text{ boda})$$

Rješavamo sustav

$$\begin{cases} xy + 2y = 120 \\ xy - 7x = 48 \end{cases} \quad (1 \text{ bod})$$

Ako iz prve jednadžbe izrazimo  $y = \frac{120}{x+2}$  i uvrstimo u drugu, dobivamo

$$x \cdot \frac{120}{x+2} - 7x = 48, \quad (1 \text{ bod})$$

koja se svodi na kvadratnu jednadžbu

$$7x^2 - 58x + 96 = 0. \quad (2 \text{ boda})$$

Njezino cjelobrojno rješenje je  $x = 6$ . (2 boda)

Tada je  $y = \frac{120}{6+2} = 15$ . (1 bod)

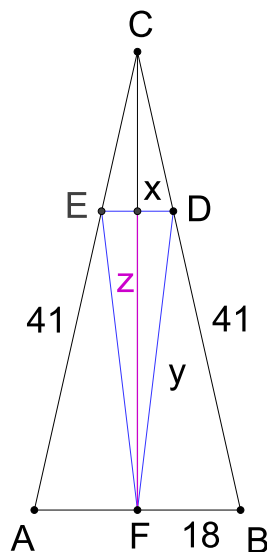
Valentino će kupiti 6 ruža, a ako ih kupuje u subotu, plaćat će ih 8 kn po komadu.

(1 bod)

**Zadatak B-2.8.** Jednakokračnom trokutu  $ABC$  s osnovicom duljine 18 cm i krakom duljine 41 cm upišite jednakokračan trokut  $DEF$  maksimalne površine, tako da su osnove dvaju trokuta paralelne, a da je vrh upisanog trokuta u polovištu osnovice zadanog. Odredite duljine stranica trokuta  $DEF$ .

*Rješenje.* Skica

(1 bod)



Visina  $|CF|$  jednakokračnog trokuta  $ABC$  je  $\sqrt{41^2 - 9^2} = 40$  cm. Neka je  $z$  visina trokuta  $DEF$ . Iz sličnosti trokuta  $ABC$  i  $EDC$  imamo:

$$18 : 40 = x : (40 - z) \quad (1 \text{ bod})$$

$$z = \frac{360 - 20x}{9} \quad (2 \text{ boda})$$

Površina trokuta  $DEF$  jednaka je

$$P = \frac{xz}{2}$$

$$P = \frac{x(360 - 20x)}{18}$$

$$P = -\frac{10}{9}x^2 + 20x. \quad (2 \text{ boda})$$

Maksimalna površina se postiže za

$$x = -\frac{b}{2a} = \frac{20}{\frac{20}{9}} = 9 \text{ cm.} \quad (2 \text{ boda})$$

Duljina kraka tog trokuta je

$$y = \sqrt{\left(\frac{x}{2}\right)^2 + z^2} = \sqrt{\left(\frac{9}{2}\right)^2 + 20^2} = \frac{41}{2} \text{ cm.} \quad (2 \text{ boda})$$

**Napomena:** Za pogodeno rješenje dati 1 bod.

# ŠKOLSKO/GRADSKO NATJECANJE IZ MATEMATIKE

## 3. razred – srednja škola – B varijanta

### 14. veljače 2012.

UKOLIKO UČENIK IMA DRUGAČIJI POSTUPAK RJEŠAVANJA ZADATKA, POVJERENSTVO JE DUŽNO I TAJ POSTUPAK BODOVATI I OCIJENITI NA ODGOVARAJUĆI NAČIN.

**Zadatak B-3.1.** Riješite nejednadžbu

$$2012^{2x} - 2012^x - 2011 \cdot 2012 \geq 0.$$

*Rješenje.* Uvedimo supstituciju  $t = 2012^x$ . Rješavamo nejednadžbu

$$t^2 - t - 2011 \cdot 2012 \geq 0 \quad \text{ili} \quad (t - 2012) \cdot (t + 2011) \geq 0. \quad (1 \text{ bod})$$

Njezino je rješenje

$$t \leq -2011 \quad \text{ili} \quad t \geq 2012. \quad (1 \text{ bod})$$

Dakle,

$$2012^x \leq -2011 \quad \text{ili} \quad 2012^x \geq 2012. \quad (1 \text{ bod})$$

Prva je nejednadžba nemoguća, a iz druge slijedi  $x \geq 1$ . (1 bod)

**Zadatak B-3.2.** Odredite sva rješenja jednadžbe

$$\frac{1}{2} \sin 2x - \cos^2 \left( \frac{\pi}{2} - x \right) = 0.$$

*Rješenje.* Dana se jednadžba može zapisati u obliku

$$\begin{aligned} \sin x \cos x - \sin^2 x &= 0 \\ \sin x (\cos x - \sin x) &= 0. \end{aligned} \quad (1 \text{ bod})$$

Tada je

$$\sin x = 0 \quad \text{ili} \quad \cos x - \sin x = 0. \quad (1 \text{ bod})$$

Iz  $\sin x = 0$  slijedi  $x = k\pi$ ,  $k \in \mathbb{Z}$ , (1 bod)

a iz  $\cos x - \sin x = 0$ , tj.  $\operatorname{tg} x = 1$  slijedi  $x = \frac{\pi}{4} + k\pi$ ,  $k \in \mathbb{Z}$ . (1 bod)

**Zadatak B-3.3.** Odredite temeljni period funkcije  $f(x) = 8 \sin^2 x \cos^2 x - 2 \cos^2 2x$ .

**Rješenje.** Zapišimo funkciju  $f$  kao

$$f(x) = 2(2 \sin x \cos x)^2 - 2 \cos^2 2x = 2 \sin^2 2x - 2 \cos^2 2x = -2 \cos 4x. \quad (3 \text{ boda})$$

Temeljni period ove funkcije je  $\frac{2\pi}{4} = \frac{\pi}{2}$ . (1 bod)

**Zadatak B-3.4.** Koliko ima jednakokranih trokuta kojima su duljine stranica cjelobrojne, a opseg jednak 30 cm?

**Rješenje.** Neka je  $a$  duljina osnovice, a  $b$  duljina kraka jednakokranih trokuta. Iz  $a + 2b = 30$  slijedi da  $a$  mora biti paran broj, a iz nejednakosti duljina stranica trokuta  $a < b + b = 2b$ .

(2 boda)

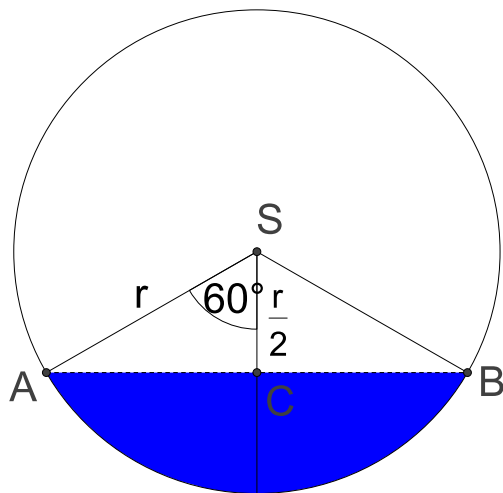
Dakle,  $a \leq 14$  i paran je broj pa je moguće jedino ovih 7 slučajeva:

$$(a, b) \in \{(2, 14), (4, 13), (6, 12), (8, 11), (10, 10), (12, 9), (14, 8)\}. \quad (2 \text{ boda})$$

Ako učenik nema mogućnost da je  $a = b = 10$  cm, treba mu oduzeti 1 bod.

**Zadatak B-3.5.** Bačva ima oblik uspravnog valjka kojemu je os u horizontalnom položaju, a duljina polumjera osnovke 2 dm, te duljina visine 6 dm. Bačva je uronjena u vodu do polovine polumjera osnovke. Izračunajte obujam uronjenog dijela bačve.

**Rješenje.**



Kut  $\angle ASC = 60^\circ$  pa je kut  $\alpha = \angle ASB = 120^\circ$ . (1 bod)

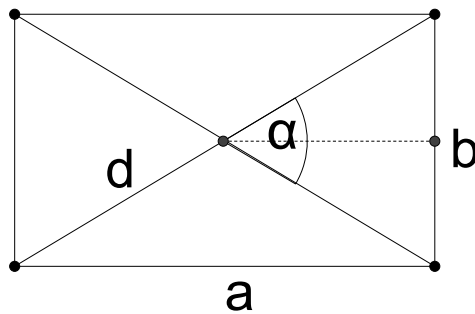
Računamo obujam dijela valjka kojem je osnovka kružni odsječak sa središnjim kutem  $\alpha = 120^\circ$ , a visina  $v$ , po formuli

$$V = B \cdot v = \left( \frac{r^2 \pi \alpha}{360^\circ} - \frac{1}{2} r^2 \sin \alpha \right) v = \left( \frac{r^2 \pi}{3} - \frac{1}{2} r^2 \frac{\sqrt{3}}{2} \right) v = r^2 v \left( \frac{\pi}{3} - \frac{\sqrt{3}}{4} \right) = 8\pi - 6\sqrt{3} \text{ cm}^3. \quad (3 \text{ boda})$$

**Napomena:** Površina trokuta  $ABS$  se može računati i kao dvije površine trokuta  $ACS$  korištenjem trigonometrije ili bez nje.

**Zadatak B-3.6.** Površina pravokutnika iznosi  $12 \text{ cm}^2$ , a ako se šiljasti kut između njegovih dijagonala smanji na pola, površina iznosi  $7.5 \text{ cm}^2$ . Koliko iznosi duljina dijagonale pravokutnika?

**Rješenje.**



Ako je kut između dijagonala  $\alpha$ , površina je

$$P = 4 \cdot \frac{\frac{d}{2} \frac{d}{2} \sin \alpha}{2} = \frac{1}{2} d^2 \sin \alpha = 12 \quad (2 \text{ boda})$$

$$d^2 \sin \alpha = 24 \quad (1)$$

Ako je kut između dijagonala  $\frac{\alpha}{2}$ , površina je

$$P_1 = \frac{1}{2} d^2 \sin \frac{\alpha}{2} = 7.5$$

$$d^2 \sin \frac{\alpha}{2} = 15 \quad (2)$$

(1 bod)

Podijelimo li jednadžbe (1) i (2), dobivamo

$$\frac{\sin \alpha}{\sin \frac{\alpha}{2}} = \frac{8}{5} \quad (2 \text{ boda})$$

$$\frac{2 \sin \frac{\alpha}{2} \cos \frac{\alpha}{2}}{\sin \frac{\alpha}{2}} = \frac{8}{5} \quad (1 \text{ bod})$$

$$\cos \frac{\alpha}{2} = \frac{4}{5}. \quad (1 \text{ bod})$$

Tada je

$$\sin \frac{\alpha}{2} = \frac{3}{5} \quad (1 \text{ bod})$$

$$d^2 = \frac{15}{\sin \frac{\alpha}{2}} = \frac{15}{\frac{3}{5}} = 25 \quad (1 \text{ bod})$$

$$d = 5 \text{ cm} \quad (1 \text{ bod})$$

**Napomena:** Površina pravokutnika se može izračunati i pomoću duljina stranica pravokutnika  $a$ ,  $b$ :

$$a = d \cos \frac{\alpha}{2}, \quad b = d \sin \frac{\alpha}{2}$$

$$P = a \cdot b = d \cos \frac{\alpha}{2} \cdot d \sin \frac{\alpha}{2} = \frac{1}{2} d^2 \sin \alpha.$$

**Zadatak B-3.7.** Riješite sustav jednadžbi

$$x = 2^{\frac{4}{1+\log_2 z}}$$

$$y = 2^{\frac{4}{1+\log_2 x}}$$

$$z = 2^{\frac{9}{1+\log_2 y}}$$

**Rješenje.** Logaritmiranjem (po bazi 2) danih jednadžbi, dani sustav prelazi u

$$\log_2 x = \frac{4}{1 + \log_2 z}$$

$$\log_2 y = \frac{4}{1 + \log_2 x}$$

$$\log_2 z = \frac{9}{1 + \log_2 y}, \quad (1 \text{ bod})$$

gdje su  $x$ ,  $y$ ,  $z$  pozitivni realni brojevi različiti od  $\frac{1}{2}$ .

Nakon uvođenja supstitucije

$$a = \log_2 x$$

$$b = \log_2 y$$

$$c = \log_2 z$$



sustav prelazi u

$$\begin{aligned} a &= \frac{4}{1+c} \\ b &= \frac{4}{1+a} \\ c &= \frac{9}{1+b} \end{aligned} \quad (2 \text{ boda})$$

Ako iz prve jednačbe  $a$  uvrstimo u drugu jednačbu, sustav svodimo na dvije jednačbe s dvije nepoznanice

$$\begin{aligned} b \left( 1 + \frac{4}{1+c} \right) &= 4 \\ c &= \frac{9}{1+b} \end{aligned}$$

Nakon sređivanja dobivamo

$$\begin{cases} b \left( \frac{5+c}{1+c} \right) = 4 \\ 1+b = \frac{9}{c} \end{cases} \quad \text{ili} \quad \begin{cases} b = 4 \cdot \frac{1+c}{5+c} \\ b = \frac{9}{c} - 1 \end{cases}$$

Slijedi jednačba

$$4 \cdot \frac{1+c}{5+c} = \frac{9}{c} - 1. \quad (2 \text{ boda})$$

Odatle dobivamo  $c^2 = 9$ ,  $c_1 = 3$ ,  $c_2 = -3$ . (1 bod)

Iz prvog rješenja  $a_1 = 1$ ,  $b_1 = 2$ ,  $c_1 = 3$  slijedi  $\log_2 x = 1$ ,  $\log_2 y = 2$ ,  $\log_2 z = 3$  (1 bod)

odnosno  $x_1 = 2$ ,  $y_1 = 4$ ,  $z_1 = 8$ . (1 bod)

Iz drugog rješenja  $a_2 = -2$ ,  $b_2 = -4$ ,  $c_2 = -3$  slijedi  $\log_2 x = -2$ ,  $\log_2 y = -4$ ,  $\log_2 z = -3$  (1 bod)

odnosno  $x_2 = \frac{1}{4}$ ,  $y_2 = \frac{1}{16}$ ,  $z_2 = \frac{1}{8}$ . (1 bod)

**Zadatak B-3.8.** Dokažite da u pravokutnom trokutu s katetama  $a$  i  $b$ , te redom nasuprotnim kutovima  $\alpha$  i  $\beta$ ,  $a > b$ , vrijedi

*Prvo rješenje.*

$$\operatorname{tg}^2 \frac{\alpha - \beta}{2} = \frac{\sin^2 \frac{\alpha - \beta}{2}}{\cos^2 \frac{\alpha - \beta}{2}} = \frac{1 - \cos(\alpha - \beta)}{1 + \cos(\alpha - \beta)} = \frac{1 - (\cos \alpha \cos \beta + \sin \alpha \sin \beta)}{1 + (\cos \alpha \cos \beta + \sin \alpha \sin \beta)} \quad (2 \text{ boda})$$

$$= \frac{1 - \frac{b}{c} \cdot \frac{a}{c} - \frac{a}{c} \cdot \frac{b}{c}}{1 + \frac{b}{c} \cdot \frac{a}{c} + \frac{a}{c} \cdot \frac{b}{c}} = \frac{c^2 - 2ab}{c^2 + 2ab} \quad (2 \text{ boda})$$

$$= \frac{a^2 + b^2 - 2ab}{a^2 + b^2 + 2ab} \quad (2 \text{ boda})$$

$$= \frac{(a - b)^2}{(a + b)^2} \quad (2 \text{ boda})$$

Iz jednakosti

$$\operatorname{tg}^2 \frac{\alpha - \beta}{2} = \frac{(a - b)^2}{(a + b)^2}$$

i uvjeta  $a > b$  slijedi

$$\operatorname{tg} \frac{\alpha - \beta}{2} = \frac{a - b}{a + b}. \quad (2 \text{ boda})$$

**Drugo rješenje.** Trokut je pravokutan pa je  $\alpha + \beta = 90^\circ$ , tj.

$$\alpha = 90^\circ - \beta. \quad (2 \text{ boda})$$

$$\operatorname{tg} \frac{\alpha - \beta}{2} = \operatorname{tg} \frac{90^\circ - \beta - \beta}{2} = \operatorname{tg} (45^\circ - \beta) = \frac{\operatorname{tg} 45^\circ - \operatorname{tg} \beta}{1 + \operatorname{tg} 45^\circ \operatorname{tg} \beta} = \frac{1 - \operatorname{tg} \beta}{1 + \operatorname{tg} \beta}. \quad (4 \text{ boda})$$

U pravokutnom trokutu je  $\operatorname{tg} \beta = \frac{b}{a}$ , tj. (2 boda)

$$\operatorname{tg} \frac{\alpha - \beta}{2} = \frac{1 - \frac{b}{a}}{1 + \frac{b}{a}} = \frac{a - b}{a + b}. \quad (2 \text{ boda})$$

što je trebalo i dokazati.

# ŠKOLSKO/GRADSKO NATJECANJE IZ MATEMATIKE

## 4. razred – srednja škola – B varijanta

### 14. veljače 2012.

UKOLIKO UČENIK IMA DRUGAČIJI POSTUPAK RJEŠAVANJA ZADATKA, POVJERENSTVO JE DUŽNO I TAJ POSTUPAK BODOVATI I OCIJENITI NA ODGOVARAJUĆI NAČIN.

**Zadatak B-4.1.** Riješite jednadžbu

$$\frac{1}{(2n-4)!} = \frac{1}{(2n-3)!} + \frac{8}{(2n-2)!}.$$

**Rješenje.** Broj  $n$  mora zadovoljavati uvjet  $n \geq 2$ .

Pomnožimo li jednadžbu

$$\frac{1}{(2n-4)!} = \frac{1}{(2n-3)!} + \frac{8}{(2n-2)!}$$

s  $(2n-2)!$ , (1 bod)

dobivamo

$$(2n-2)(2n-3) = 2n-2+8,$$

tj.  $n^2 - 3n = 0$ . (1 bod)

Rješenja posljednje jednadžbe su  $n = 0$  i  $n = 3$ . (1 bod)

No, jedino rješenje  $n = 3$  zadovoljava uvjet  $n \geq 2$ . (1 bod)

**Zadatak B-4.2.** Za koje vrijednosti realnog broja  $x$  u razvoju binoma  $\left(\sqrt{5^x} + \frac{1}{\sqrt[3]{25^x}}\right)^6$  treći član iznosi 75?

**Rješenje.** Treći član u razvoju binoma  $\left(\sqrt{5^x} + \frac{1}{\sqrt[3]{25^x}}\right)^6$  iznosi

$$\binom{6}{2} \left(\sqrt{5^x}\right)^4 \left(\frac{1}{\sqrt[3]{25^x}}\right)^2 \quad (1 \text{ bod})$$

$$= 15 \cdot 5^{2x} \cdot 5^{-\frac{4x}{3}} = 3 \cdot 5^{1-\frac{2x}{3}}. \quad (1 \text{ bod})$$

Tada je  $3 \cdot 5^{1-\frac{2x}{3}} = 75$ , odnosno  $5^{1-\frac{2x}{3}} = 25$  (1 bod)

pa je  $1 - \frac{2x}{3} = 2$  i konačno  $x = -\frac{3}{2}$ . (1 bod)

**Zadatak B-4.3.** Je li broj  $\sqrt{6 - 4\sqrt{2}} - \sqrt{6 + 4\sqrt{2}}$  racionalan? Dokažite.

*Prvo rješenje.*

$$\sqrt{6 - 4\sqrt{2}} - \sqrt{6 + 4\sqrt{2}} = \sqrt{4 + 2 - 4\sqrt{2}} - \sqrt{4 + 2 + 4\sqrt{2}} = \quad (1 \text{ bod})$$

$$= \sqrt{(2 - \sqrt{2})^2} - \sqrt{(2 + \sqrt{2})^2} = |2 - \sqrt{2}| - |2 + \sqrt{2}| = -2\sqrt{2}. \quad (2 \text{ boda})$$

Broj je iracionalan. (1 bod)

*Drugo rješenje.* Neka je  $x = \sqrt{6 - 4\sqrt{2}} - \sqrt{6 + 4\sqrt{2}}$ . Nakon kvadriranja slijedi

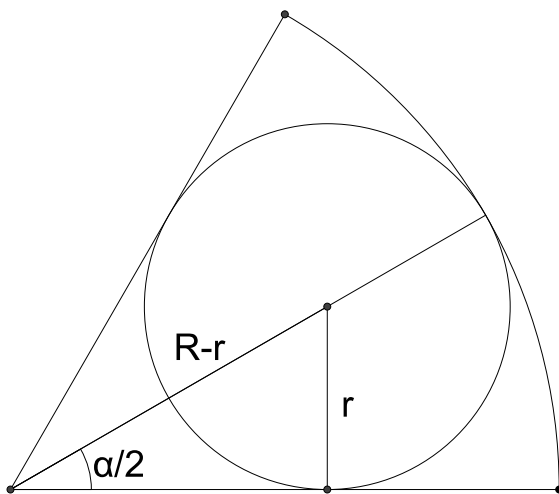
$$x^2 = 12 - 2\sqrt{36 - 32}, \quad (2 \text{ boda})$$

tj.  $x^2 = 8$ . (1 bod)

Ova jednažba nema racionalnih rješenja pa je dani broj iracionalan. (1 bod)

**Zadatak B-4.4.** U kružni isječak upisan je krug. Izračunajte omjer površina kružnog isječka i upisanog kruga, ako je omjer njihovih polumjera 3 : 1.

*Rješenje.* Skica (1 bod)



Ako je  $R : r = 3 : 1$ , tada je  $R = 3r$ , a  $\sin \frac{\alpha}{2} = \frac{r}{R-r} = \frac{r}{2r} = \frac{1}{2}$  pa je  $\alpha = 60^\circ$ . (2 boda)

Tada je traženi omjer

$$\frac{P_i}{P_k} = \frac{R^2 \pi \frac{\alpha}{360^\circ}}{r^2 \pi} = \frac{\alpha}{40^\circ} = \frac{3}{2}. \quad (1 \text{ bod})$$

**Zadatak B-4.5.** Neka je  $z = -\cos \frac{9\pi}{8} + i \sin \frac{7\pi}{8}$  kompleksan broj. Odredite najmanji prirodan broj  $n$  tako da realni dio broja  $z^n$  iznosi 0.

**Rješenje.** Zapišimo broj  $z = -\cos \frac{9\pi}{8} + i \sin \frac{7\pi}{8}$  u trigonometrijskom obliku:

$$z = \cos \frac{\pi}{8} + i \sin \frac{\pi}{8}. \quad (1 \text{ bod})$$

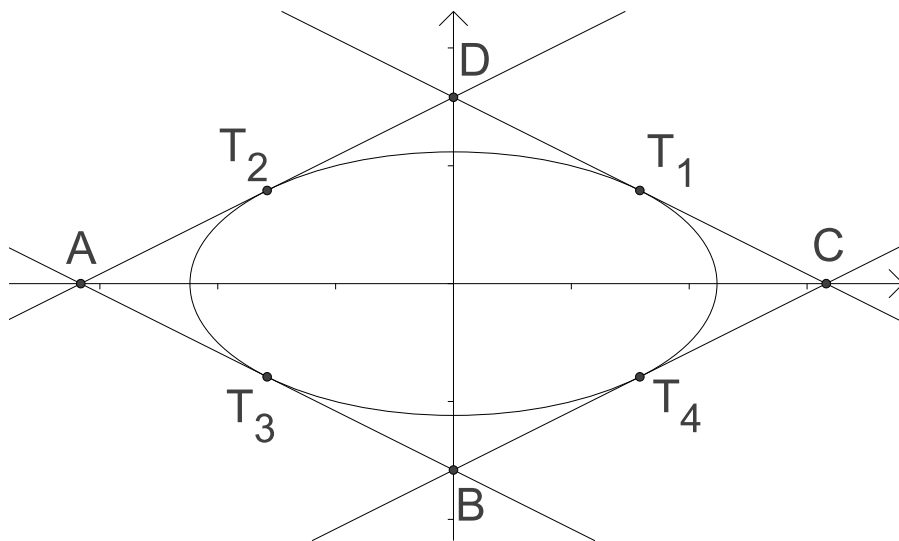
Tada je  $z^n = \cos \frac{n\pi}{8} + i \sin \frac{n\pi}{8}$ . (1 bod)

Realni dio izjednačimo s nulom:  $\cos \frac{n\pi}{8} = 0$ . (1 bod)

Dobivamo da je  $\frac{n\pi}{8} = \frac{\pi}{2} + k\pi$ ,  $k \in \mathbb{Z}$ . Najmanji prirodni broj je  $n = 4$ . (1 bod)

**Zadatak B-4.6.** Odredite jednadžbe svih tangenti elipse  $x^2 + 4y^2 = 20$  kojima dirališta raspolovljuvaju odsječak koji na tim tangentama odsijecaju koordinatne osi. Izračunajte površinu četverokuta kojeg određuju te tangente.

**Prvo rješenje.** Skica (1 bod)



Označimo diralište tangente i elipse s  $T(x_0, y_0)$ . Jednadžba tangente je

$$x_0x + 4y_0y = 20. \quad (1 \text{ bod})$$

Sjecišta tangente s koordinatnim osima su točke  $A\left(\frac{20}{x_0}, 0\right)$  i  $B\left(0, \frac{5}{y_0}\right)$ . (2 boda)

Točka  $T$  je i polovište dužine  $AB$  pa vrijedi  $x_0 = \frac{10}{x_0}$  i  $y_0 = \frac{5}{2y_0}$  odakle slijedi

$$x_0 = \pm\sqrt{10}, \quad y_0 = \pm\frac{\sqrt{10}}{2}. \quad (2 \text{ boda})$$

Zaključujemo da postoje četiri takve tangente, a njihove jednadžbe su

$$\begin{aligned}x - 2y + 2\sqrt{10} &= 0 \\x + 2y - 2\sqrt{10} &= 0 \\x - 2y - 2\sqrt{10} &= 0 \\x + 2y + 2\sqrt{10} &= 0.\end{aligned}\tag{2 boda}$$

Ove tangente određuju romb kojemu je površina jednaka

$$P = 4 \cdot \frac{1}{2} \cdot \left| \frac{20}{x_0} \right| \cdot \left| \frac{5}{y_0} \right| = 40.\tag{2 boda}$$

**Drugo rješenje.** Skica (1 bod)

Jednadžba tangente je oblika  $y = kx + l$ . Sjecišta tangente s koordinatnim osima su  $M\left(-\frac{l}{k}, 0\right)$ ,  $N(0, l)$ . Koordinate polovišta su  $P\left(-\frac{l}{2k}, \frac{l}{2}\right)$ . (2 boda)

Koordinate dirališta tangente elipse su  $\left(-\frac{a^2k}{l}, \frac{b^2}{l}\right)$ . (1 bod)

Izjednačimo li koordinate polovišta i koordinate dirališta, dobivamo

$$\begin{aligned}\frac{l}{2} = \frac{b^2}{l} &\Rightarrow l^2 = 2b^2 = 2 \cdot 5 = 10 \Rightarrow l = \pm\sqrt{10} \\-\frac{l}{2k} = -\frac{a^2k}{l} &\Rightarrow 2k^2a^2 = l^2 \Rightarrow k^2 = \frac{l^2}{2a^2} = \frac{10}{40} = \frac{1}{4} \Rightarrow k = \pm\frac{1}{2}.\end{aligned}\tag{2 boda}$$

Jednadžbe tangenti su

$$\begin{aligned}y &= \frac{1}{2}x + \sqrt{10} \\y &= -\frac{1}{2}x + \sqrt{10} \\y &= \frac{1}{2}x - \sqrt{10} \\y &= -\frac{1}{2}x - \sqrt{10}\end{aligned}\tag{2 boda}$$

Površina dobivenog romba je  $P = 4 \cdot \frac{1}{2} \cdot 2\sqrt{10} \cdot \sqrt{10} = 40$ . (2 boda)

**Zadatak B-4.7.** Odredite sve cijele brojeve  $a$ ,  $b$  i  $c$  tako da vrijedi  $c = (a + bi)^3 - 7i$ .

**Rješenje.** Napišimo broj  $c$  u pogodnom obliku

$$\begin{aligned}c &= (a + bi)^3 - 7i \\c &= a^3 + 3a^2bi - 3ab^2 - b^3i - 7i.\end{aligned}\tag{1 bod}$$

Izjednačimo realne te imaginarne dijelove:

$$\begin{cases} c = a^3 - 3ab^2 \\ 0 = 3a^2b - b^3 - 7 \end{cases} \quad (1 \text{ bod})$$

$$\begin{cases} a(a^2 - 3b^2) = c \\ b(3a^2 - b^2) = 7 \end{cases}$$

Sada imamo četiri mogućnosti:

1°  $b = 1, 3a^2 - b^2 = 7$   
 $3a^2 = 8$ , a u skupu cijelih brojeva ova jednadžba nema rješenja (1 bod)

2°  $b = -1, 3a^2 - b^2 = -7$   
 $3a^2 = -6$ , a u skupu cijelih brojeva ova jednadžba nema rješenja (1 bod)

3°  $b = 7, 3a^2 - b^2 = 1$   
 $3a^2 = 50$ , a u skupu cijelih brojeva ova jednadžba nema rješenja (1 bod)

4°  $b = -7, 3a^2 - b^2 = -1$   
 $3a^2 = 48, a^2 = 16, a = \pm 4$ . (2 boda)

$c = \pm 4(16 - 3 \cdot 49)$   
 $c_1 = -524, c_2 = 524$  (2 boda)

Rješenja su  $a = 4, b = -7, c = -524$  ili  $a = -4, b = -7, c = 524$ . (1 bod)

**Zadatak B-4.8.** Ako za duljine stranica trokuta vrijedi  $a - b = b - c \geq 0$ , dokažite da drugi po veličini kut nije veći od  $60^\circ$ . Kada će taj kut biti jednak  $60^\circ$ ?

**Rješenje.** Ako je  $a - b = b - c \geq 0$ , onda je  $b = \frac{a+c}{2}$  i srednji po veličini je kut  $\beta$ . (2 boda)

Iz poučka o kosinusu slijedi

$$\cos \beta = \frac{a^2 + c^2 - b^2}{2ac} = \frac{a^2 + c^2 - \left(\frac{a+c}{2}\right)^2}{2ac} = \frac{4a^2 + 4c^2 - a^2 - 2ac - c^2}{4 \cdot 2ac} = \frac{3a^2 + 3c^2 - 2ac}{8ac}$$
(2 boda)

$$\cos \beta = \frac{3(a^2 - 2ac + c^2) + 4ac}{8ac} = \frac{3(a-c)^2}{8ac} + \frac{1}{2}$$
(2 boda)

Prvi pribrojnik je uvijek nenegativan pa je

$$\cos \beta \geq \frac{1}{2}, \quad \text{tj.} \quad \beta \leq 60^\circ.$$
(2 boda)

Jednakost vrijedi jedino za  $a = b = c$ , tj. za jednakostraničan trokut. (2 boda)