



# Ponavljanje - 3. razred



1. Ivanu, Luki, Mariji i Klari stigli su božićni darovi. Na poklonima nisu pisala imena, već brojevi. Riješi zadatke i otkrij tko je što dobio pod borom!

**IVAN**



$$545 - 222 =$$



357



248

**LUKA**



$$460 + 389 =$$

219




849

**MARIJA**



$$405 - 157 =$$

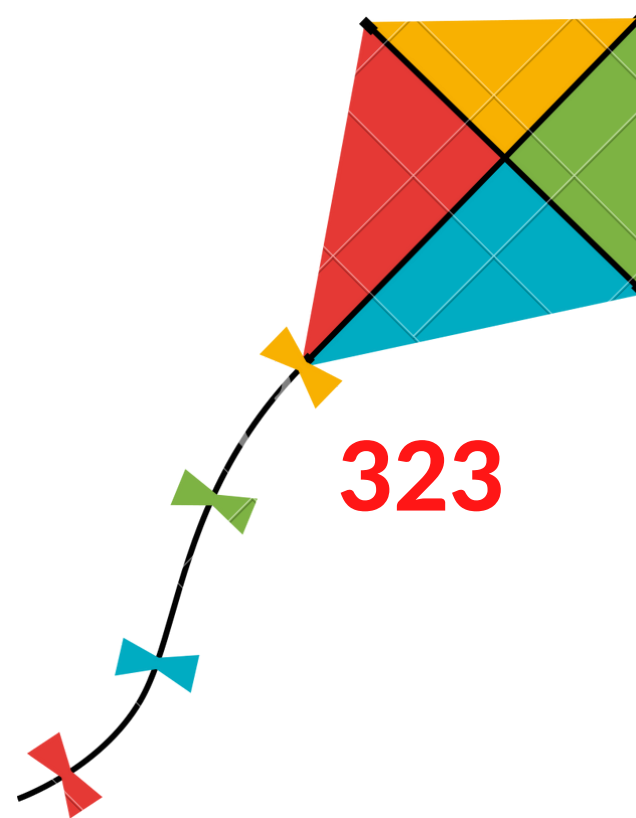


392

**KLARA**



$$127 + 265 =$$



323



856

2. Ivan je u kutu pronašao još jedan skriveni poklon. Pomozi mu otkriti kome je namijenjen taj poklon. Svaki rezultat odgovara jednom slovu. Poredaj slova redom i otkrij čiji je skriveni poklon.

1.  $312 - 58 =$
2.  $568 + 201 =$
3. Koji broj ima 5 S, 3 D i 2 J ?
4. Koji je broj prethodnik broja 765?
5. Koliko iznosi a u nejednakosti  $389 < a < 391$  ?
6. Koji je najveći troznamenkasti broj?
7. Koliko iznosi b u jednakosti  $b - 1 = 389$ ?

$$390 = I$$

$$764 = R$$

$$254 = P$$

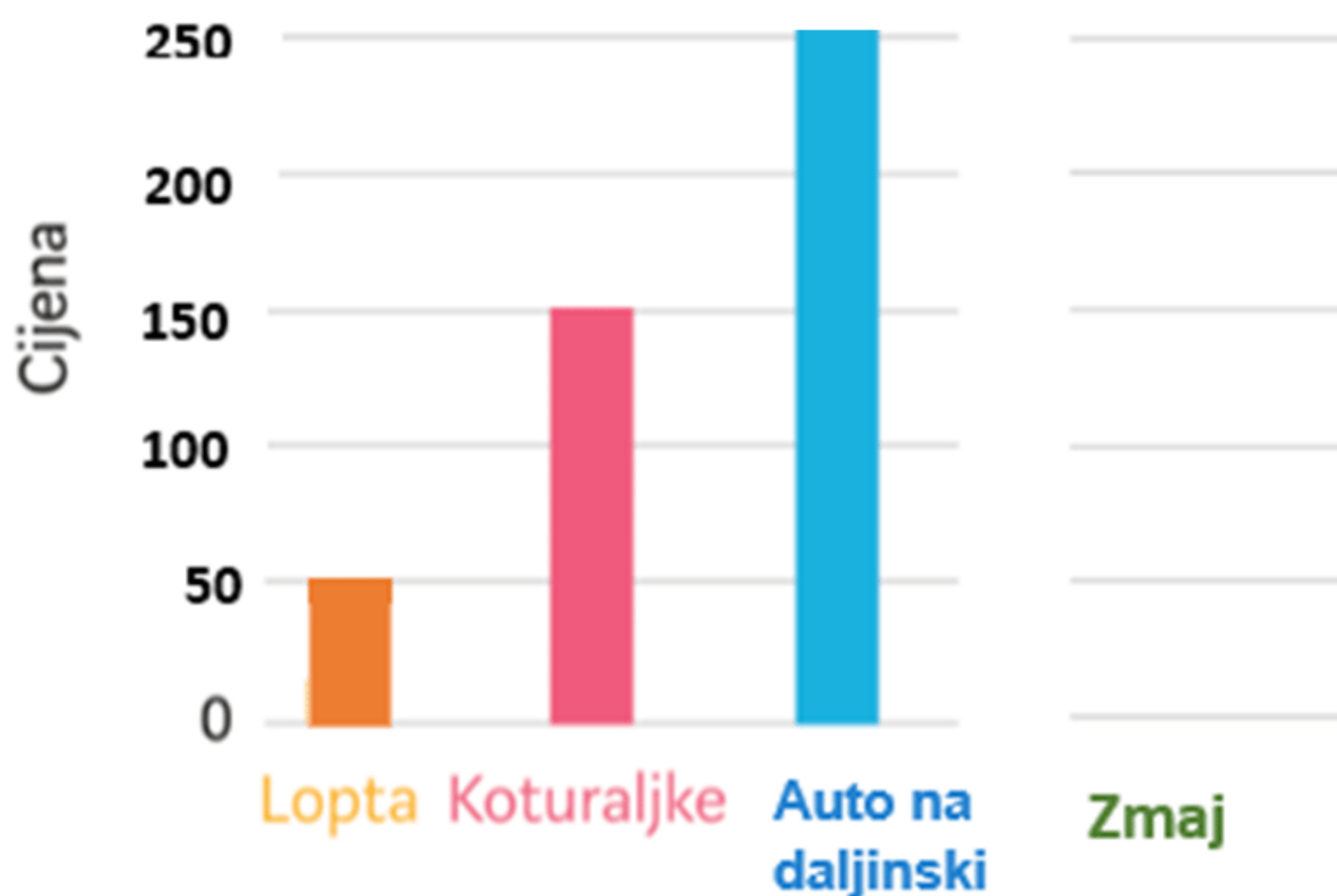
$$999 = K$$

$$532 = S$$


$$769 = A$$




3. Promotri stupčasti dijagram i odgovori na postavljena pitanja.




a) Koja je cijena lopte?



b) Koja je cijena koturaljki?




c) Koja je cijena auta na daljinski?



d) Zmaj je koštao 120 kuna. Prikaži njegovu cijenu stupčastim dijagramom.

e) Koliko je Djed Mraz ukupno potrošio novaca na poklone za Ivana, Luku, Mariju i Klaru?

\_\_\_\_\_



f) Koliko se lopti može kupiti za cijenu jednih koturaljki?

